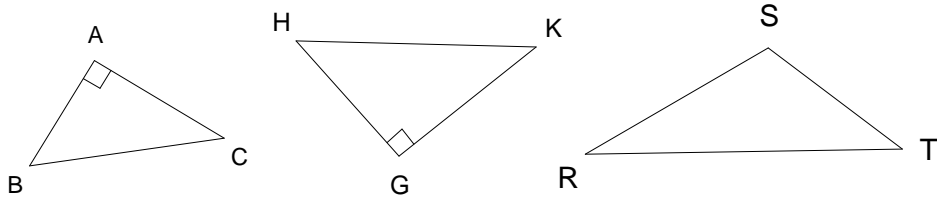


Exercice 1 :

Nommer l'hypoténuse dans chacun des triangles quand c'est possible.



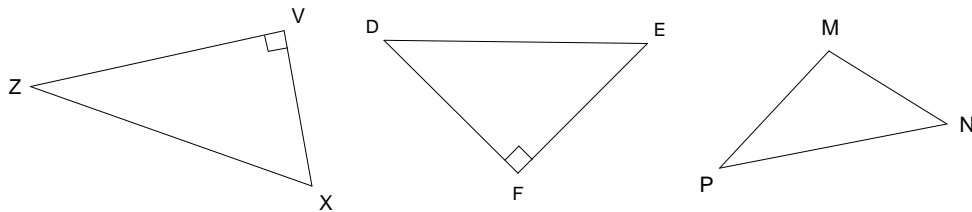
.....

Exercice 2 :

Énoncer le théorème de Pythagore.

Exercice 3 :

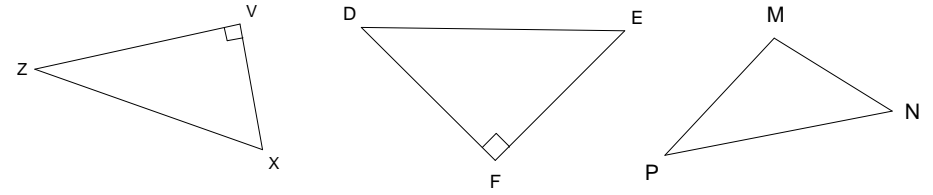
Écrire le théorème de Pythagore dans chacun des triangles ci-dessous quand c'est possible.



.....

Exercice 1 :

Nommer l'hypoténuse dans chacun des triangles quand c'est possible.



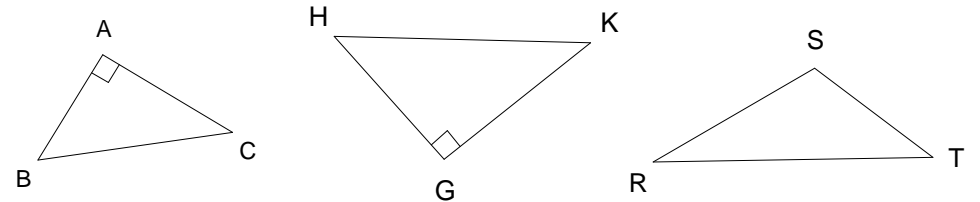
.....

Exercice 2 :

Énoncer le théorème de Pythagore.

Exercice 3 :

Écrire le théorème de Pythagore dans chacun des triangles ci-dessous quand c'est possible.



.....